



MINISTERUL
EDUCAȚIEI
NAȚIONALE

romania2019.eu



SOCIETATEA
DE GEOGRAFIE
DIN ROMÂNIA

EDITURA CD PRESS
www.cdpress.ro



CONCURSUL ȘCOLAR NAȚIONAL DE GEOGRAFIE „TERRA”

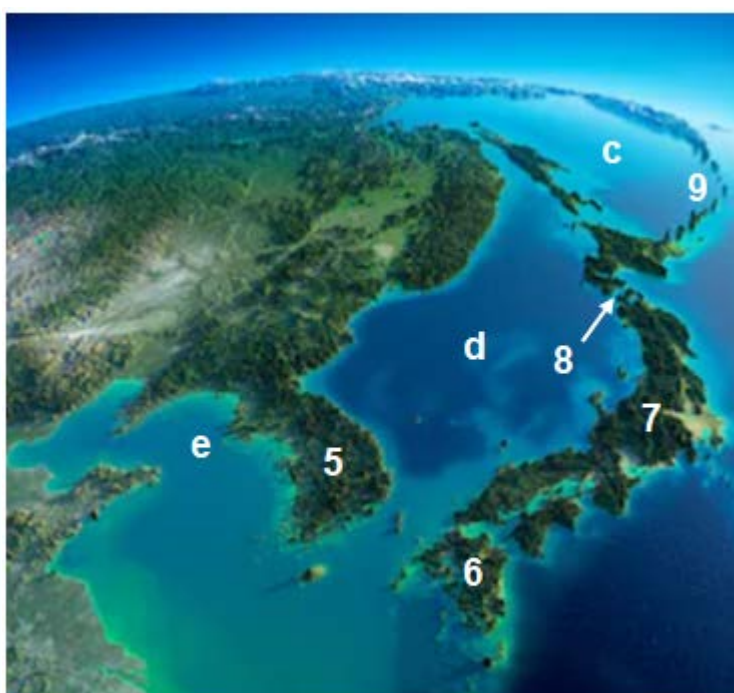
ETAPA NAȚIONALĂ

18 mai 2019

CLASA a VII-a

Subiectul I (20 puncte)

Analizează fragmentele de hartă de mai jos, pe care sunt marcate mări și oceane cu litere de la a la j și diferite articulații ale țărmurilor cu numere de la 1 la 20. Citește cu atenție cerințele următoare și selectează cerculețul de lângă litera corespunzătoare răspunsului corect.



1. Strâmtoarea Ormuz este marcată cu numărul:
 a. 2 b. 8 c. 18 d. 20 2 puncte
2. Statul numit Turcia ocupă peninsula marcată cu numărul:
 a. 5 b. 11 c. 15 d. 19 2 puncte
3. Formează împreună așa numita „Mediterană Americană”, apele bazinelor marcate cu literele:
 a. a și b b. d și e c. f și g d. h și i 2 puncte
4. Prezintă un climat tropical arid și semiarid peninsula marcată cu numărul:
 a. 5 b. 12 c. 15 d. 17 2 puncte
5. Insulele Kurile sunt marcate cu numărul:
 a. 4 b. 7 c. 9 d. 13 2 puncte
6. Peninsula care face parte din teritoriul S.U.A. este marcată cu numărul:
 a. 1 b. 3 c. 5 d. 17 2 puncte
7. Marea Ohotsk este marcată cu litera:
 a. a b. c c. g d. h 2 puncte
8. Aparține unui stat african peninsula marcată cu numărul:
 a. 5 b. 11 c. 16 d. 17 2 puncte
9. Canalul Panama a fost tăiat prin istmul marcat cu numărul:
 a. 4 b. 8 c. 10 d. 14 2 puncte
10. Vânturile periodice cunoscute sub numele de musoni sunt specifice primului strat atmosferic de deasupra unei zone din bazinul marcat cu litera:
 a. b b. e c. g d. j 2 puncte

Subiectul II (18 puncte)

Pe reprezentările de mai jos sunt marcate cu litere patru dintre continentele Terrei.



A. Identifică continentul căruia îi sunt specifice elementele geografice prezentate la punctele 1, 2, 3 și 4, apoi scrie în fiecare casetă liberă litera cu care acesta este marcat pe reprezentarea cartografică corespunzătoare.

1. lacuri glaciare foarte întinse care însumează un volum imens de apă dulce, prerie, castori

2. un imens șanț tectonic în care s-au format numeroase lacuri, climă tropical aridă, savane cu baobabi

3. cea mai mare peninsulă de pe glob, cel mai adânc lac din lume, întinse deșerturi temperate

4. peisaje andine, cea mai înaltă cascadă din lume, pampas

8 puncte

B. Citește cu atenție afirmațiile următoare. Dacă apreciezi că afirmația este adevărată scrie, în caseta alăturată, litera A, iar dacă apreciezi că afirmația este falsă, scrie litera F.

1. În continentul marcat cu litera **A** vegetația, fauna și solurile se dispun în fâșii de la nord la sud.
2. Vulcanul Chimborazo se află în zona montană a continentului marcat cu litera **C**.
3. Printre lacurile tectonice din continentul marcat cu litera **B** se numără Erie și Ontario.
4. Malabar și Coromandel sunt două câmpii litorale ce aparțin uscatului continental marcat cu litera **A**.
5. În continentul marcat cu litera **C** se desfășoară cea mai extinsă pădure de conifere din lume.
6. Depresiunea Turfan a cărei altitudine coboară sub nivelul mării (-154 m) se află în continentul marcat cu litera **A**.
7. Cascadele lui Stanley și Livingstone se află pe fluviul Congo din continentul marcat cu litera **B**.
8. Pe anumite suprafețe din continentul marcat cu litera **B** bat vânturile polare.
9. Lacul cu salinitatea foarte ridicată numit Marea Moartă se află în continentul marcat cu litera **A**.
10. Deșertul din zona caldă cu cea mai lungă perioadă de secetă înregistrată pe glob (peste 400 de ani) este situat în continentul marcat cu litera **D**.

10 puncte

Subiectul III (16 puncte)

Se dă următoarea listă de animale: antilopă, bizon, gazelă, iac, jaguar, lamă, ren, rinocer, tapir, urs panda.

A. Patru dintre elementele faunistice din această listă sunt descrise în enunțurile următoare (marcate cu cifrele 1, 2, 3 și 4). Identifică elementul faunistic și scrie în fiecare casetă liberă numele acestuia. Notă: scrie numele așa cum apare în lista dată.

1. Reprezintă suveranul preriei și, așa cum este renul pentru laponi sau dromaderul pentru beduini, acest mamifer a însemnat pentru amerindieni (nativii americani) animalul cheie de a cărui existență s-a legat întreaga lor cultură și civilizație.

2. Considerat „verișoara” cămilei, dar fără cocoașa clasică, acest animal trăiește în sălbăticie în zona andină, mai ales pe teritoriul Boliviei și al Perului. Chiar dacă nu are forța unui măgar și nici viteza unui cal, acest mamifer rumegător este folosit ca animal de povară, dar totodată este valoros pentru carnea și mai ales pentru lâna sa de calitate superioară.

3. Pe vremuri, turmele sălbatice trăiau în număr mare, nestingherite, în stepa podișurilor înalte ale Asiei Centrale. Datorită vânătorii excesive, astăzi mai există în sălbăticie doar câteva sute de exemplare, devenind astfel o specie vulnerabilă, în pericol de dispariție.

4. Acest mamifer face parte dintre cele mai mari animale terestre. Din cauza vânătorii excesive (cornul este considerat un adevărat trofeu), efectivele au scăzut simțitor, fiind în pericol de dispariție.

8 puncte

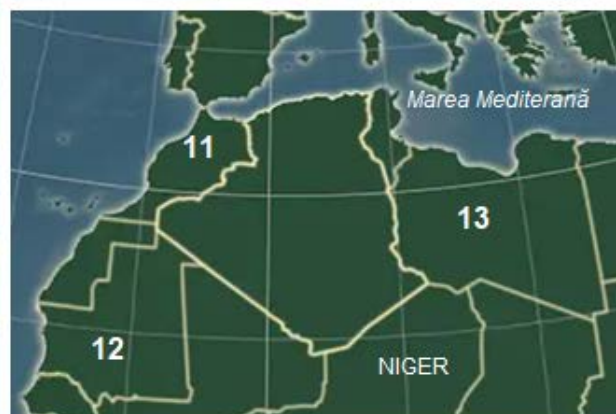
B. Cele patru elemente faunistice identificate la punctul anterior (A) sunt prezentate în imaginile de mai jos, marcate cu literele a, b, c și d. Scrie în caseta liberă de sub fiecare imagine numele elementului faunistic prezentat. Notă: scrie numele așa cum apare în lista dată.



8 puncte

Subiectul IV (28 puncte)

Imaginile de mai jos reprezintă fragmente din hărțile politice ale continentelor studiate. Pe aceste fragmente de hartă sunt marcate cu numere diferite state.



A. Analizează fragmentele de hartă de mai sus și scrie în casetele libere informațiile care completează afirmațiile următoare:

1. În perioada marilor descoperiri geografice era cunoscut drept „țara mirodeniilor” statul marcat cu numărul
2. Munții Stâncoși și Câmpia Mississippi sunt unități de relief din statul marcat cu numărul
3. Lacul Nasser format în spatele barajului de la Assuan se află situat în statul marcat cu numărul
4. Peisajele de tip selvas, campos și caatinga sunt specifice statului marcat cu numărul
5. Cea mai mare parte din Deșertul Namib se află în statul marcat cu numărul

6. Podișul Patagoniei reprezintă una dintre unitățile de relief ale statului marcat cu numărul
7. Munții Atlas, climatul și vegetația tipic mediteraneană sunt specifice cadrului natural din statul marcat cu numărul:
8. Engleza și afrikaans se numără printre limbile oficiale ale statului marcat cu numărul
9. Ocupă o parte din Peninsula Indochina statul marcat cu numărul
10. Fluviile Indus și Gange reprezintă elemente ale hidrografiei statului marcat cu numărul

20 puncte

B. Imaginile următoare prezintă patru dintre principalele orașe ale statelor marcate pe fragmentele de hartă de mai sus. Scrie în casetele libere numerele cu care statele reprezentate de aceste orașe sunt marcate pe fragmentele de hartă.



A – Johannesburg:

B – Dacca:

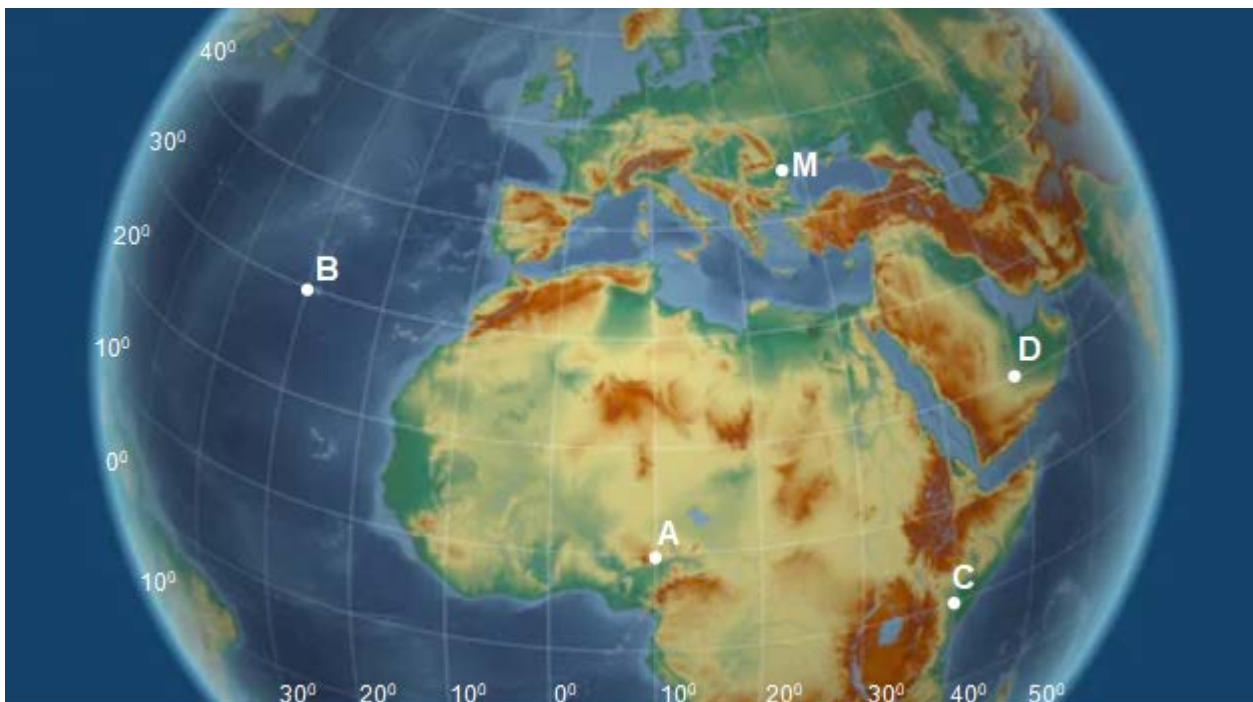
C – Ciudad de Mexico:

D – Ar Riyadh

8 puncte

Subiectul V (8 puncte)

Analizează reprezentarea cartografică de mai jos, pe care sunt marcate cu litere cinci puncte de pe glob.



Știind că punctul M este situat la intersecția paralelei de 44° N cu meridianul de 26° E scrie în casetele libere:

Notă: scrie în casete doar numărul corespunzător, conform cerinței, fără alte cuvinte/litere sau semne

1. distanța în grade de latitudine de la punctul M până la punctul A

2. distanța în grade de longitudine de la punctul M până la punctul B

3. distanța în grade de latitudine de la punctul D până la Polul Sud

4. distanța în grade de longitudine de la punctul C până la meridianul opus meridianului Greenwich, dacă deplasarea până la acest meridian s-ar face pornind din punctul C spre vest

8 puncte