



MINISTERUL
EDUCAȚIEI
NAȚIONALE
ȘI CERCETĂRII
ȘTIINȚIFICE



SOCIETATEA
DE GEOGRAFIE
DIN ROMÂNIA

EDITURA CD PRESS
www.cdpress.ro



CONCURSUL ȘCOLAR NAȚIONAL DE GEOGRAFIE „TERRA”

ETAPA JUDEȚEANĂ/MUNICIPALĂ BUCUREȘTI

Ediția a IV-a, 26 martie 2016

CLASA a VII-a



Eu sunt **Terra** și prietenul meu Harry Potter și ne bucurăm că ai venit la acest concurs. Tu ești un mare geograf și, astăzi, ai ocazia să demonstrezi cât de bine mă cunoști. Ai la dispoziție 90 de minute să rezolvi testul pe care ți l-am pregătit. Răspunde corect la toate cerințele și vei câștiga 90 de puncte. Împreună cu cele 10 puncte pe care ți le oferim în dar, drept mulțumire că ai venit aici, vei avea în total 100 de puncte.

Subiectul I (12 puncte)

Scrie, pe foaia de concurs, litera corespunzătoare răspunsului corect pentru fiecare dintre afirmațiile de mai jos:

- În partea de sud-vest a Asiei, o veche "civilizație neolitică" s-a dezvoltat de-a lungul fluviului:
a. Chang Jiang b. Eufrat c. Gange d. Mekong
- Populația Asiei de Vest și Sud-Vest este, în principal, de religie:
a. creștină b. budistă c. hindusă d. islamică
- Capitala statului Bhutan este orașul numit:
a. Colombo b. Islamabad c. Katmandu d. Thimphu
- Cel mai mare port al Asiei de Est și Sud-Est este orașul:
a. Hanoi b. Shanghai c. Singapore d. Yokohama
- Cel mai înalt vulcan situat pe continentul african este numit:
a. Camerun b. Kenya c. Kilimanjaro d. Kliucev
- Africa de Sud se remarcă prin importante rezerve de:
a. cărbune b. diamante c. marmură d. petrol

Subiectul II (14 puncte)

A. Citește cu atenție textul de mai jos:

„Este o țară situată pe două continente, Europa și Asia, cele două sectoare fiind despărțite de Marea Marmara. Partea europeană a statului poartă denumirea de Tracia, iar partea asiatică a țării, formată din trei provincii, are un relief predominant de munți și podișuri.”

Scrie pe foaia de concurs:

- numele statului prezentat în text;
- numele celor două peninsule pe care se află situat teritoriul acestui stat;
- numele mării cu care acest stat se învecinează în partea sa nordică;
- numele celui mai mare centru urban al acestui stat, singurul care se dezvoltă pe două continente.

6 puncte

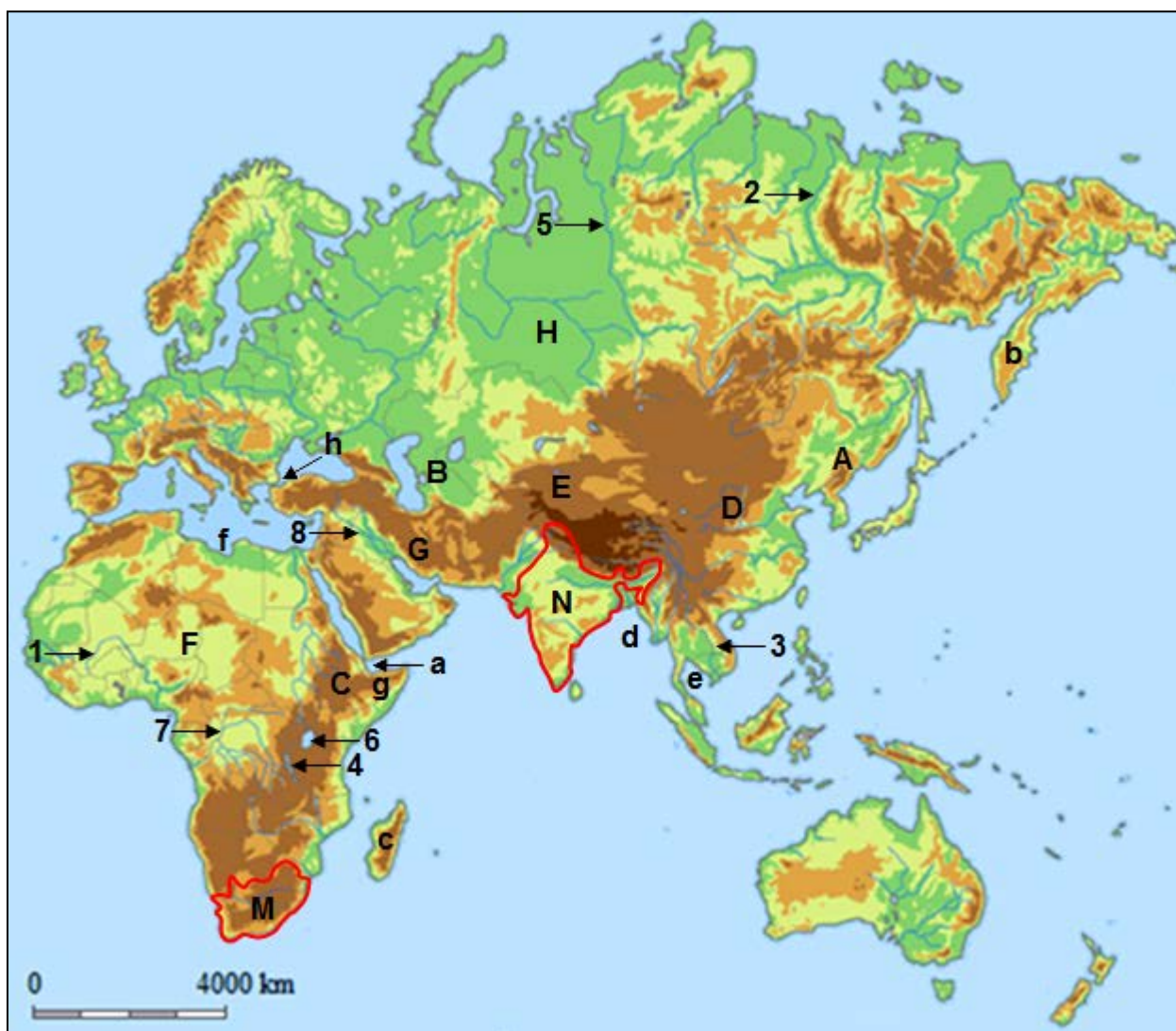
B. Scie, pe foaia de concurs, răspunsurile la următoarele cerințe:

1. Explică prezența deșerturilor temperate în interiorul Asiei, precizând doi factori care au determinat apariția acestora.
2. Precizează două fenomene/procese tectonice rezultate ca urmare a evoluției grabenului est-african.

8 puncte

Subiectul III (30 puncte)

Pe harta de mai jos sunt marcate articulații ale țărmurilor (insule, peninsule, strâmțori și golfuri) cu litere de la a la h, unități de relief cu litere de la A la H și elemente de hidrografie (fluvii și lacuri) cu numere de la 1 la 8.



A. Identifică unitatea de relief sau elementul de hidrografie pe baza caracteristicilor și denumirilor geografice prezentate mai jos. Scie, pe foaia de concurs, litera sau numărul cu care fiecare dintre acestea este marcat pe harta de mai sus.

1. câmpie aridă, estul Mării Caspice;
2. fluviu, Câmpia Mesopotamiei;
3. Zagros, Teheran;
4. fluviu, Siberia, lacul Baikal, Munții Baikal;
5. depresiune, deșert, Munții Tian-Șan, Munții Kunlun;

6. podiș, deșert, alizee, Ciad;
7. fluviu, Peninsula Indochina;
8. Victoria, Nilul Alb;
9. podiș, mărginit din trei părți de fluviul Huang He;
10. fluviu, Golful Guineei, Nigeria.

20 puncte

B. Pe harta de mai sus sunt marcate, cu literele M și N, două state reprezentative pentru continentele studiate. Scrie pe foaia de concurs:

1. Pentru statul marcat, pe hartă, cu litera **M**:

- a. numele a două unități montane de relief din acest stat;
- b. numele celui mai important fluviu care străbate acest stat;
- c. numele a două orașe care reprezintă principalele areale industriale ale acestui stat.

5 puncte

2. Pentru statul marcat, pe hartă, cu litera **N**:

- a. numele a două religii practicate de locuitorii acestui stat;
- b. numele a două orașe cu o populație de peste 10 milioane de locuitori din acest stat;
- c. numele unei culturi agricole care ocupă suprafețe însemnate din acest stat.

5 puncte

Subiectul IV (26 puncte)

A. Analizează harta alăturată și scrie pe foaia de concurs:

1. numele statelor marcate, pe hartă, cu literele **A, B, C, D, E** și **F**;

2. numele golfului marcat, pe hartă, cu numărul **1**;

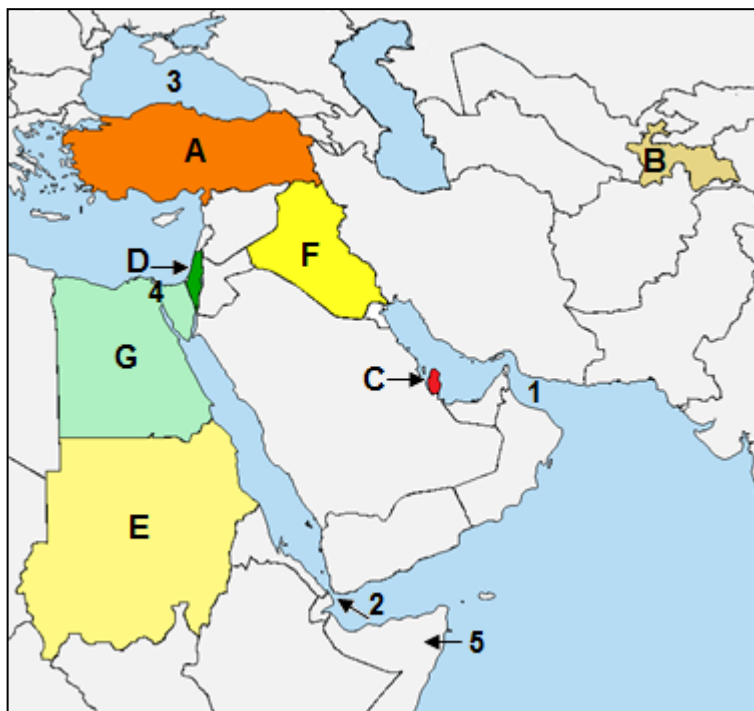
3. numele strâmtoării marcate, pe hartă, cu numărul **2**;

4. numele mării marcate, pe hartă, cu numărul **3**;

5. numele canalului care străbate regiunea marcată, pe hartă, cu numărul **4**;

6. numele peninsulei marcate, pe hartă, cu numărul **5**.

11 puncte



B. Analizează harta alăturată și scrie, pe foaia de concurs, răspunsurile care completează propozițiile de mai jos:

1. Strâmtoarea marcată, pe hartă, cu numărul **2** face legătura dintre Marea Roșie și Golful

2. Capitala statului marcat, pe hartă, cu litera **C** este orașul

3. Teritoriile statelor marcate, pe hartă, cu literele **E** și **G** sunt străbătute de fluviul

4. Lacul Van se află pe teritoriul statului marcat, pe hartă, cu litera

5. Mozaismul/iudaismul este religia caracteristică populației din statul marcat, pe hartă, cu litera

6. Fac parte din regiunea numită Orientul Apropiat statele marcate, pe hartă, cu literele

7 puncte

C. Imaginile de mai jos prezintă obiective turistice aflate în două dintre statele marcate, pe harta de mai sus, cu litere de la A la G. Scrie pe foaia de concurs:



1. numele lacului prezentat în imaginea marcată cu litera A, precum și cauza formării blocurilor de sare la suprafața apei;
2. litera cu care este marcat, pe harta de mai sus, statul în care se găsește acest lac;
3. litera cu care este marcat, pe harta de mai sus, statul în care se găsesc obiectivele turistice prezentate în imaginea marcată cu litera B;
4. numele orașelor-capitală în care se află obiectivele turistice prezentate în imaginile marcate cu literele C și D;
5. literele cu care sunt marcate, pe harta de mai sus, statele ale căror orașe-capitală prezintă obiectivele turistice din imaginile marcate cu literele C și D.

8 puncte

Subiectul V (8 puncte)

Analizează harta alăturată și răspunde la următoarele cerințe:

1. Precizează coordonatele geografice ale punctului marcat, pe hartă, cu litera E.
2. Punctele extreme ale Africii, marcate pe hartă, cu literele A, B, C și D sunt definite de următoarele coordonate geografice:

A: $37^{\circ}21'$ lat N și $9^{\circ}50'$ long E

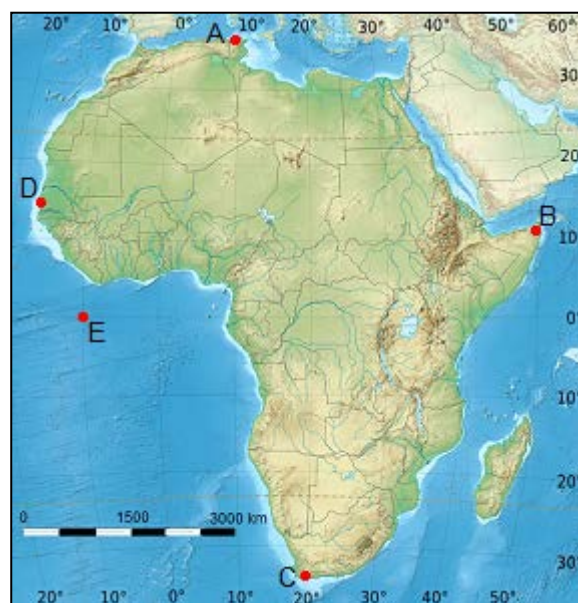
B: $11^{\circ}49'$ lat N și $51^{\circ}28'$ long E

C: $34^{\circ}51'$ lat S și 20° long E

D: $14^{\circ}44'$ lat N și $17^{\circ}32'$ long V

Calculează pe câte grade de latitudine și longitudine se desfășoară continentul Africa.

3. Calculează distanța pe longitudine dintre punctele marcate, pe hartă, cu literele A și B.



Felicitări că ai ajuns la finalul testului. Sper să ne revedem la etapa națională. Până atunci, te rog să ne scrii pe adresa concursterra2016@yahoo.ro. Vrem să știm dacă ți-au plăcut subiectele și mai ales dacă vei participa și la anul la acest concurs. Îți vom pregăti noi surprize. Paaa!



MINISTERUL
EDUCAȚIEI
NAȚIONALE
ȘI CERCETĂRII
ȘTIINȚIFICE



SOCIETATEA
DE GEOGRAFIE
DIN ROMÂNIA

EDITURA CD PRESS
www.cdpress.ro



**CONCURSUL ȘCOLAR NAȚIONAL DE GEOGRAFIE „TERRA”
ETAPA JUDEȚEANĂ/MUNICIPALĂ BUCUREȘTI**

Ediția a IV-a, 26 martie 2016

BAREM DE EVALUARE ȘI DE NOTARE

CLASA a VII-a

- Se punctează oricare alte formulări / modalități de rezolvare corectă a cerințelor.
- Nu se acordă punctaje intermediare, altele decât cele precizate explicit prin barem.

Subiectul I 12 puncte

Se acordă câte **2 puncte** pentru fiecare răspuns corect:

1. b; 2. d; 3. d; 4. c; 5. c; 6. b.

Total Subiectul I (1+2+3+4+5+6) = 12 puncte

Subiectul II 14 puncte

A. Se acordă 6 puncte astfel:

1. Turcia - **2p**
2. Pen. Asia Mică - **1p**, Pen. Balcanică - **1p**;
3. Marea Neagră - **1p**;
4. Istanbul - **1p**.

Total A (1+2+3+4) = 6 puncte

B. Se acordă 8 puncte astfel:

1. câte **2 puncte** pentru fiecare factor corect menționat:

Exemplu: - marea depărtare de mări și oceane,
- munții care constituie bariere în calea precipitațiilor sau bariere climatice etc.

2. câte **2 puncte** pentru fiecare fenomen/proces tectonic corect menționat:

Exemplu: vulcanism, cutremure, lacuri tectonice, formare de rift și expansiunea fundului oceanic etc.

Total B (1+2) = 8 puncte

Total Subiectul II (A+B) = 14 puncte

Subiectul III 30 puncte

A. Se acordă câte 2 puncte pentru fiecare răspuns corect:

1. B; 2. 8; 3. G; 4. 2; 5. E; 6. F; 7. 3; 8. 6; 9. D; 10. 1.

Total A (1+2+3+4+5+6+7+8+9+10) = 20 puncte

B. Se acordă câte 1 punct pentru fiecare răspuns corect:

1. a. M-ții Scorpiei - **1p**, M-ții Capului - **1p**;
b. Orange - **1p**;
c. Johannesburg - **1p**, Cape Town - **1p**.

Total 1 (a+b+c) = 5 puncte

2. a. oricare două religii practicate de populația Indiei dintre hinduism, budism, islamism, creștinism, jainism - **1p+1p**

b. Mumbai/Bombay - **1p**, Calcutta - **1p**;

c. orez /sorg/mei/iută etc. - **1p**.

Total 2 (a+b+c) = 5 puncte.

Total B (1+2) = 10 puncte

Total Subiectul III (A+B) = 30 puncte

Subiectul IV 26 puncte

A. Se acordă câte 1 punct pentru fiecare răspuns corect:

1. A - Turcia; B - Tadjikistan; C - Qatar; D - Israel; E - Sudan; F - Irak (**total 6p**);

2. Oman - **1p**;

3. Bab el Mandeb - **1p**;

4. Marea Neagră - **1p**;

5. Suez - **1p**;

6. Somalia - **1p**.

Total A (1+2+3+4+5+6) = 11 puncte

B. Se acordă câte 1 punct pentru fiecare răspuns corect:

1. Aden - **1p**;

2. Doha - **1p**;

3. Nil - **1p**;

4. A - **1p**;

5. D - **1p**;

6. A - **1p**, D - **1p**.

Total B (1+2+3+4+5+6) = 7 puncte

C. Se acordă câte 1 punct pentru fiecare răspuns corect:

1. Marea Moartă - **1p**, salinitatea foarte ridicată/evaporarea puternică - **1p**;

2. D - **1p**;

3. G - **1p**;

4. C - Ierusalim - **1p**, D - Cairo - **1p**;

5. C - D/Israel - **1p**, D - G/Egipt - **1p**.

Total C (1+2+3+4+5) = 8 puncte

Total Subiectul IV (A+B+C) = 26 puncte

Subiectul V 8 puncte

Se acordă câte **2 puncte** pentru fiecare răspuns corect:

1. 0° lat și 10° long V - **2p**;

2. desfășurare pe latitudine: 72°12' - **2p**; desfășurarea pe longitudine: 69° - **2p**;

3. 41°38' - **2p**.

Total Subiectul V (1+2+3) = 8 puncte

TOTAL: 90 PUNCTE

OFICIU: 10 PUNCTE